





JUNE



2021

Sunday	Monday	Tuesday	Wednesday	Thursday	Friday	Saturday
		378x612 1	429x305 2	7400x90 3	820x1500 4	分度器(ぶんどき)を5 かって、30°をかきましょ う。
6	98÷7 7	87÷4 8	836÷3 9	806÷4 10	537÷9 11	130ページの本を1日12 6ページずつ読むと、読 み終わるのに何日かか りますか。
13	354÷5 14	どちらが おおきいですか。 15 5.34□5.28	どちらが おおきいですか。 16 0.943□1	0.01を 370こあつめた かず 17	4.6を 100ばいし たかず 18	分度器(ぶんどき)を9 かって、45°をかきましょ う。
20	6.32+2.18 21	1.27-0.9 22	8.18-7.45 23	8-1.56 24	60÷20 25	400÷50 26
27	69÷32 28 しょうはいちのくらいま でもとめて、あまりもだ しましょう。	85÷23 29 しょうはいちのくらいま でもとめて、あまりもだ しましょう。	70÷14 30 しょうはいちのくらいま でもとめて、あまりもだ しましょう。	←Find a quotient to the ones place and find a remainder.		



Sunday	Monday	Tuesday	Wednesday	Thursday	Friday	Saturday
				$94 \div 29$ しょうはいちのくらいまでもとめて、あまりもだしまししょう。	$73 \div 18$ 2 しょうはいちのくらいまでもとめて、あまりもだしまししょう。	$93 \div 15$ 3 しょうはいちのくらいまでもとめて、あまりもだしまししょう。
4	$248 \div 42$ 5 しょうはいちのくらいまでもとめて、あまりもだしまししょう。	$352 \div 36$ 6 しょうはいちのくらいまでもとめて、あまりもだしまししょう。	$739 \div 32$ 7 しょうはいちのくらいまでもとめて、あまりもだしまししょう。	$855 \div 19$ 8 しょうはいちのくらいまでもとめて、あまりもだしまししょう。	$941 \div 26$ 9 しょうはいちのくらいまでもとめて、あまりもだしまししょう。	$691 \div 34$ 10 しょうはいちのくらいまでもとめて、あまりもだしまししょう。
11	$910 \div 13$ 12 しょうはいちのくらいまでもとめて、あまりもだしまししょう。	$681 \div 168$ 13 しょうはいちのくらいまでもとめて、あまりもだしまししょう。	$500 - (120 + 70)$ 14	$12 \times (38 - 18)$ 15	$60 + 20 \times 7$ 16	$100 - 60 \times 2 \div 4$ 17
18	$2 \frac{1}{5} + 1 \frac{3}{5}$ 19	$29/9 - 2/9$ 20	$3 \frac{7}{8} - 2 \frac{4}{8}$ 21	$4 \frac{2}{7} - 4/7$ 22	3.57×8 23	0.17×4 24
from 7/27-31, Completely divide. 25	2.35×92 26	$8.4 \div 3$ 27 わりきれるまでけいさんしまししょう。	$91.8 \div 27$ 28 わりきれるまでけいさんしまししょう。	$5.36 \div 8$ 29 わりきれるまでけいさんしまししょう。	$11.96 \div 13$ 30 わりきれるまでけいさんしまししょう。	$44.5 \div 25$ 31 わりきれるまでけいさんしまししょう。